


2. ROČNÍK

1) Doplň názvy not:



A musical staff in treble clef with a key signature of one flat (Bb). The notes from left to right are: Bb4 (quarter), G4 (quarter), F4 (half), E4 (quarter), D4 (quarter), C4 (half), Bb3 (quarter), and A3 (quarter). Below the staff are eight horizontal lines for labeling.



A musical staff in treble clef with a key signature of one sharp (F#). The notes from left to right are: F#4 (quarter), E4 (quarter), D4 (half), C4 (quarter), B3 (quarter), A3 (half), G3 (quarter), and F3 (quarter). Below the staff are eight horizontal lines for labeling.

2) Napiš alespoň **3 dřevěné dechové** nástroje:

.....

.....

.....

3) Napiš alespoň **3 žestové** nástroje:

.....


.....

.....

3) Doplň za správnou větu ANO, za špatnou NE:

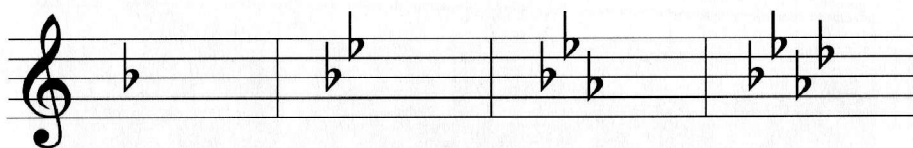
1. Viola je nejmenší smyčcový nástroj.
2. Fagot je dechový dřevěný nástroj.
3. Staccato znamená krátce.
4. Tenor je vysoký ženský hlas.
5. Pozoun je dechový žesťový nástroj.
6. Decrescendo znamená zpomalovat.
7. Kontrabas a violoncello mají čtyři struny.
8. Klarinet je dechový žesťový nástroj.
9. Alt je nízký ženský hlas.
10. Fortissimo znamená velmi silně.

4) Spoj notu se správným názvem:




c¹ h g f d a e c

5) Doplň názvy stupnic podle předznamenání:



___ DUR ___ DUR ___ DUR ___ DUR

6) Doplň předznamenání stupnice F dur a napiš kvintakord:



Kvintakord v F dur tvoří tóny _____, _____, _____.

7.) Spoj čarou intervaly a jejich názvy:



c ¹ - e ¹	c ¹ - c ¹	c ¹ - a ¹	c ¹ - d ¹	c ¹ - h ¹	c ¹ - f ¹	c ¹ - c ²	c ¹ - g ¹
TERCIE	PRIMA	SEXTA	SEKUNDA	SEPTIMA	KVARTA	OKTÁVA	KVINTA

8.) Které intervaly jsou čisté a které velké?

Čisté:

Velké:

9.) Jak se nazývá 1. a 2. obrat kvintakordu?